


선택과목

경제

71. 다음과 같은 상품을 생산하는 기업들의 행동 특성을 <보기>에서 고른 것은? [1점]



<보기>

- ㄱ. 다른 기업의 행동에 민감하다.
- ㄴ. 시장 가격을 자유롭게 인상할 수 있다.
- ㄷ. 때때로 담합을 통해 상호 경쟁을 제한한다.
- ㄹ. 다른 기업의 시장 진입을 방해하지 않는다.

- ① ㄱ, ㄴ                      ② ㄱ, ㄷ                      ③ ㄴ, ㄷ
- ④ ㄴ, ㄹ                      ⑤ ㄷ, ㄹ

72. 다음 두 글을 종합하여 내린 결론으로 가장 타당한 것은?

- 시장 경제에서 어떤 재화가 계속해서 지나치게 많이 생산되거나 또는 적게 생산되는 일은 잘 일어나지 않는다. 그 이유는 바로 가격이 신호등 기능을 하고, 경제 주체들은 이 신호등을 보고 스스로 자신의 행동을 조절해 나가며, 그것이 합쳐져 경제 전체의 조화로 귀결되기 때문이다.
- 사람들은 깨끗한 환경의 가치를 잘 알고 있다. 그러나 다수의 모르는 사람들이 더럽혀 놓은 것을 대가도 제대로 받지 못하면서 깨끗이 하고 환경을 보존하기를 누구도 달가워하지 않는다. 모두가 깨끗한 환경을 누리고 싶어는 하는데 그것을 공급하려는 사람은 없다.

- ① 시장은 사람들의 욕구를 반영하지 않는다.
- ② 시장에서 재화의 수요와 공급은 일치하게 마련이다.
- ③ 시장이 기능하지 못할 때 그것을 대신할 방법이 없다.
- ④ 사회가 필요로 하는 것이 시장을 통해 제대로 공급되지 않을 수도 있다.
- ⑤ 사람들이 가격 신호등에 따라 행동을 조정하면 언제나 사회 전체의 조화가 보장된다.

73. 다음 글로부터 추론할 수 있는 내용을 <보기>에서 고른 것은? [1점]

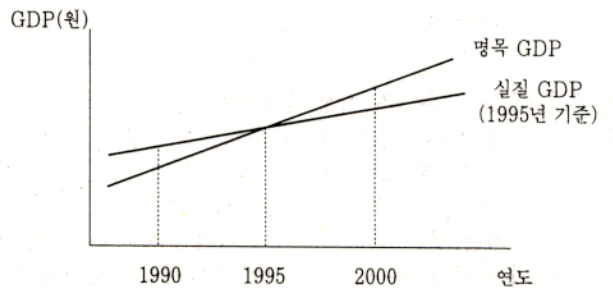
세계 무역 기구(WTO)의 출범과 더불어 자유 교역 대상은 농산물, 서비스 및 지적 소유권 등으로 확대되었다. WTO는 또한 금융, 보험, 통신 등 서비스 교역의 촉진을 위해 세계적으로 통용될 수 있는 공통 기준과 절차를 마련하고, 교역품에 대한 정부의 보조금 지원 조건, 근로 조건, 환경 오염 기준 등을 규정해 나가고 있다.

<보기>

- ㄱ. 무역 분쟁의 쌍무적 해결이 많아진다.
- ㄴ. 각 나라 정부의 정책 자율성이 약화된다.
- ㄷ. 비관세 장벽에 의한 보호 무역 정책의 실행이 어려워진다.
- ㄹ. 경쟁력이 약한 자국 기업들에 대한 정부 지원이 더욱 강화된다.

- ① ㄱ, ㄴ    ② ㄱ, ㄷ    ③ ㄴ, ㄷ    ④ ㄴ, ㄹ    ⑤ ㄷ, ㄹ

74. 다음 그림에 대한 설명으로 옳은 것은? [2점]



- ① 2000년 물가는 1995년 물가보다 낮다.
- ② 실질 GDP는 기준 연도에 따라 달라진다.
- ③ 생산량의 실제적 변화를 정확히 나타내는 지표는 명목 GDP이다.
- ④ 인플레이션이 심할수록 명목 GDP와 실질 GDP의 격차가 줄어들든다.
- ⑤ 1995년은 물가 상승률이 0%여서 명목 GDP와 실질 GDP가 일치한다.

75. 다음 사실에 대한 <보기>의 분석들 가운데 옳은 것을 모두 고른 것은?

다른 조건이 일정할 때, 한 재화에 대한 수요가 늘어나면 그 재화의 시장 가격은 상승한다. 그런데, 컴퓨터의 경우는 그렇지 않았다. 지난 몇 년 동안 컴퓨터에 대한 수요는 빠르게 증대되어 왔으나, 컴퓨터의 가격은 오른 것이 아니라 오히려 지속적으로 하락해 왔다.

<보기>

- ㄱ. 수요와 공급의 변화가 함께 일어났다.
- ㄴ. 컴퓨터 가격의 하락은 공급의 증가에 의해 설명될 수 있다.
- ㄷ. 가격이 하락했음에도 공급량이 늘어났으므로 공급의 법칙에 어긋난다.

- ① ㄱ                      ② ㄷ                      ③ ㄱ, ㄴ
- ④ ㄱ, ㄷ                      ⑤ ㄴ, ㄷ

76. 다음의 자료를 근거로 추론한 진술 중 잘못된 것은?

〈5대 품목 수출 추이〉 (단위: 억달러)

1998년		1999년		2000년 1월~11월	
품목	금액	품목	금액	품목	금액
반도체	170	반도체	189	반도체	241
자동차	99	자동차	112	컴퓨터	134
선박	80	컴퓨터	103	자동차	120
금속광	73	선박	75	석유화학제품	86
석유화학제품	66	석유화학제품	70	무선통신기기	73
총수출 대비 비중(%)					
36.4		38.2		41.5	

- ① 조사 기간에 걸쳐 모두 5대 품목에 속하면서 그 순위가 내려간 품목은 자동차이다.
- ② 5대 품목을 제외한 품목의 수출 비중은 계속 감소하고 있다.
- ③ 정보 기술 산업에서의 국제 경쟁력이 향상되고 있다.
- ④ 다른 조건이 일정하다면, 반도체 가격의 급격한 하락은 상품(무역) 수지를 악화시킬 수 있다.
- ⑤ 5대 품목에 대한 수출 지원 정책이 더 필요하다.

77. 다음 글에 나타난 사회에 대한 서술이라고 보기 어려운 것은?

경제적으로는 자본주의 시장 경제이며 정치적으로는 보통·평등 선거가 실시되는 민주주의 사회에서, 사람들은 자신이 원하는 것을 시장에서의 소비 행위와 선거에서의 투표 행위를 통해 드러낸다. 우리가 시장에서 자기가 번 돈으로 자기가 원하는 대로 물건을 사는 것은 마치 기업들에 대해서 투표하는 것과 같다. 소비자가 원하지 않는 것을 생산해내는 기업의 물건은 소비자들로부터 선택받지 못한다. 그런 기업은, 다수의 국민이 원하는 정책을 제시하지 않는 정치인과 정당이 당선되고 집권할 수 없듯이, 적자를 보고 망한다.

- ① 정치적 주권과 경제적 주권은 모두 국민에게 있다.
- ② 국민은 자신의 선호를 투표와 소비를 통해서 드러낸다.
- ③ 국민은 정치에서뿐 아니라 경제에서도 선택의 자유를 누린다.
- ④ 정치적 투표권은 균등하게 주어지나, 경제적 투표권은 그렇지 않다.
- ⑤ 사회에서 무엇이 얼마나 생산되는가는 궁극적으로 생산의 주체인 기업이 결정한다.

78. 다음과 같은 현상을 공통적으로 설명하는 경제 개념으로 적합한 것은?

- 대부분의 백화점은 생활 필수품보다 고급 의류와 외제 상품에 대한 세일을 더 많이 한다.
- 많은 피자 가게나 대형 슈퍼마켓에서는 특정 상품에 대한 할인 쿠폰을 발행한다.
- 극장이나 놀이공원의 경우, 오전의 관람료나 심야 입장료가 싸다.

- ① 가격 통제
- ② 기회 비용
- ③ 시장 실패
- ④ 가격 탄력성
- ⑤ 상품 차별화

79. 다음은 수정이가 경제 기사를 보고 제목에 나타난 경제 용어를 인터넷에서 찾아 본 것이다.

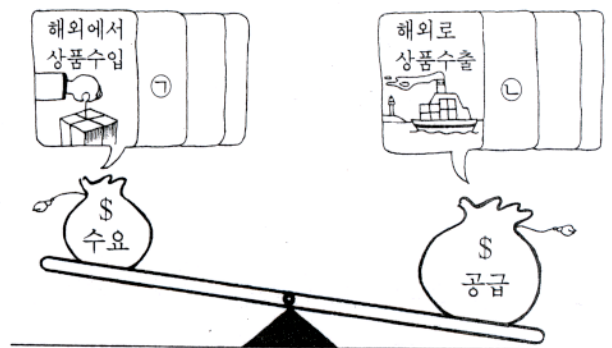
한국 은행, 콜금리 인상 시사

〔경제 용어〕 콜금리 : 금융 기관끼리 남겨나 모자라는 자금을 서로 주고받을 때 적용되는 금리. 콜금리 정책은 재할인율 정책과 비슷한 효과를 가진다.

위와 같은 한국 은행의 정책과 관련하여 추론한 것 중 잘못된 것은?

- ① 통화량이 줄어들 것이다.
- ② 시중 은행을 통한 신용 창조가 늘어날 것이다.
- ③ 시중 은행들은 대출 금리를 올릴 가능성이 있다.
- ④ 시중 은행들이 한국 은행으로부터 돈을 빌리는 비용이 높아질 것이다.
- ⑤ 이 정책은 우리 경제가 과열되었다는 한국 은행의 판단을 반영한 것이다.

80. 그림에 나타난 상황에서 환율의 변화 방향을 판단하고, ㉠과 ㉡에 들어갈 내용이 알맞게 짝지워진 것은? [2점]



환율 변화 방향	㉠	㉡
① 하락	로얄티 지급	외국인 주식 투자
② 하락	외국인 주식 투자	로얄티 지급
③ 상승	해외 여행비 지급	로얄티 지급
④ 상승	해외 건설 수입금	외국인 주식 투자
⑤ 상승	해외 차관 상환	외국인 주식 투자

\* 확인 사항

- 문제지와 답안지의 해당란에 필요한 내용을 정확히 기입(표기)했는지 확인하십시오.
- 문제지와 답안지를 함께 제출합니다. 답안지는 오른쪽에 문제지는 왼쪽에 놓으시오.